



Adı Soyadı :

Numarası :

Konu: Sıvı Ölçme (Bir Kaptaki Sıvı Miktarını Tahmin Etme)

Aşağıdaki kapların alabileceği sıvı miktarlarını tahmin ederek ölçümlerle eşleştiriniz.



•



•



•



•



•



•

•

7 L

•

200 mL

•

19 L

•

2 L


•

19 mL


•

160 L

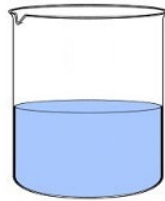
Aşağıdaki kaplarda verilen sıvı miktarlarından yararlanarak diğer kaplardaki sıvı miktarlarını tahmin ederek noktalı yerlere yazınız.



250 mL



..... mL



..... mL



800 mL



..... mL



..... mL



1 L 200 mL




.....




.....



1 L 500 mL



.....



.....

Aşağıdaki kaplarda verilen sıvı miktarlarından yararlanarak diğer kaplardaki sıvı miktarlarını tahmin ederek noktalı yerlere yazınız.



1 L 300 mL



.....



.....



.....



500 mL



.....



.....



.....



50 mL



.....



.....



.....



200 mL



.....



.....



.....



3 mL



.....



.....



.....